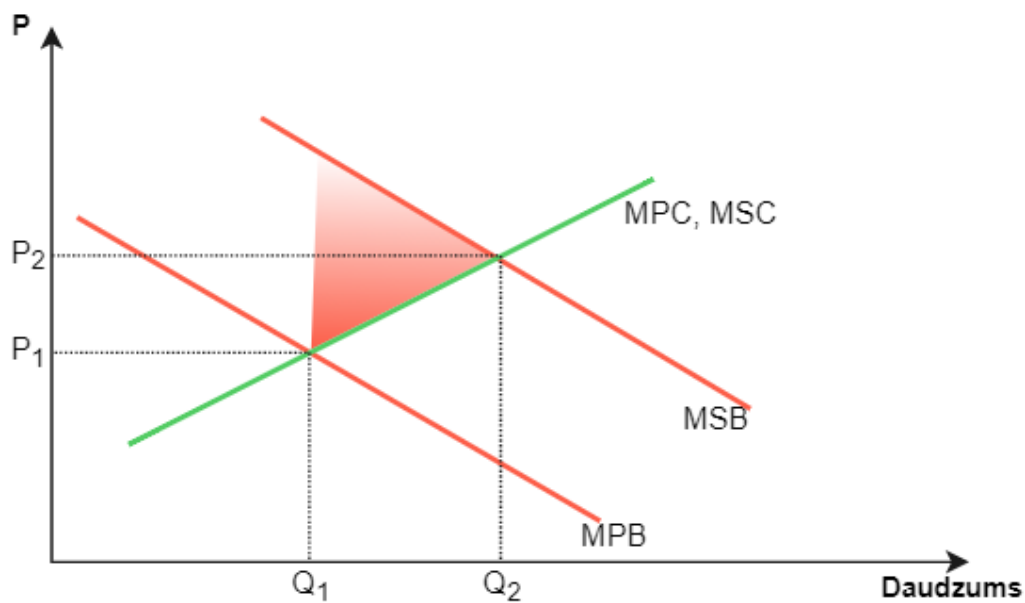
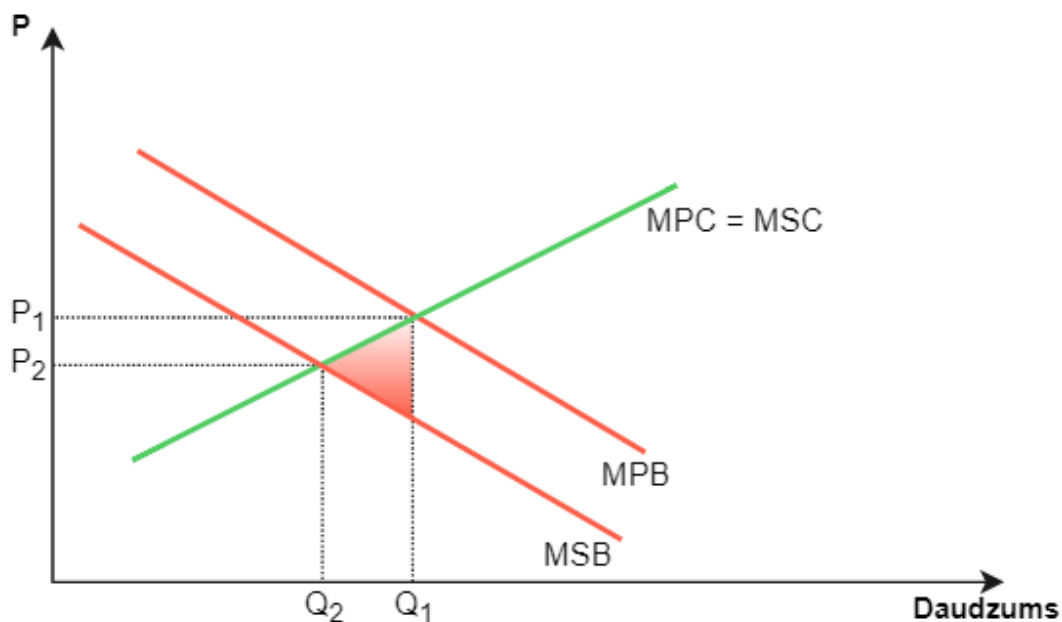


1. attēls. Pozitīvs ārējais blakusefekts, kas rodas patēriņa procesā.



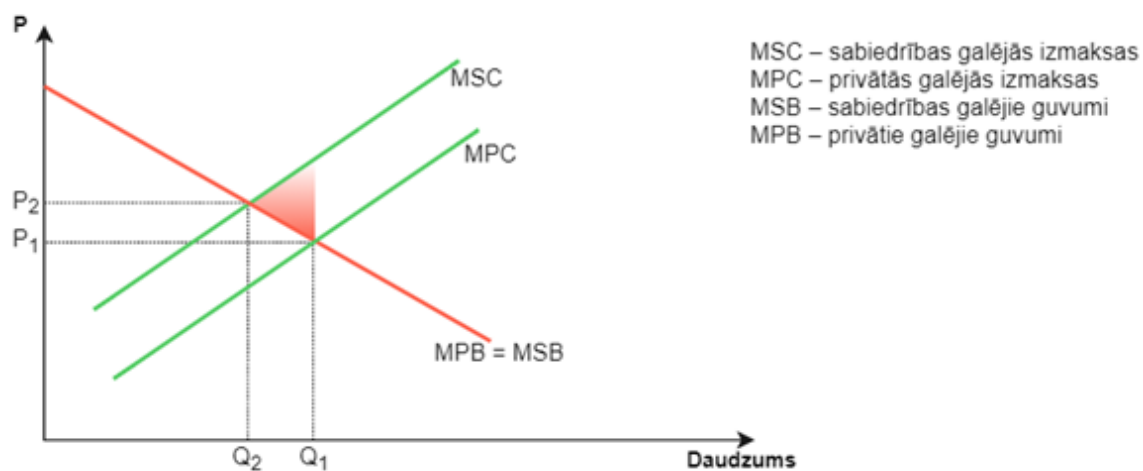
kur,  $Q_1=3$ ,  $Q_2=4$ ,  $Q$  – stundas mūzikas atskaņošanai

2. attēls. Negatīvs ārējais blakusefekts, kas rodas patēriņa procesā.



kur,  $Q_1=4$ ,  $Q_2=3$ ,  $Q$  – stundas mūzikas atskaņošanai

3. attēls. Negatīvs ārējais blakusefekts, kas rodas ražošanas procesā

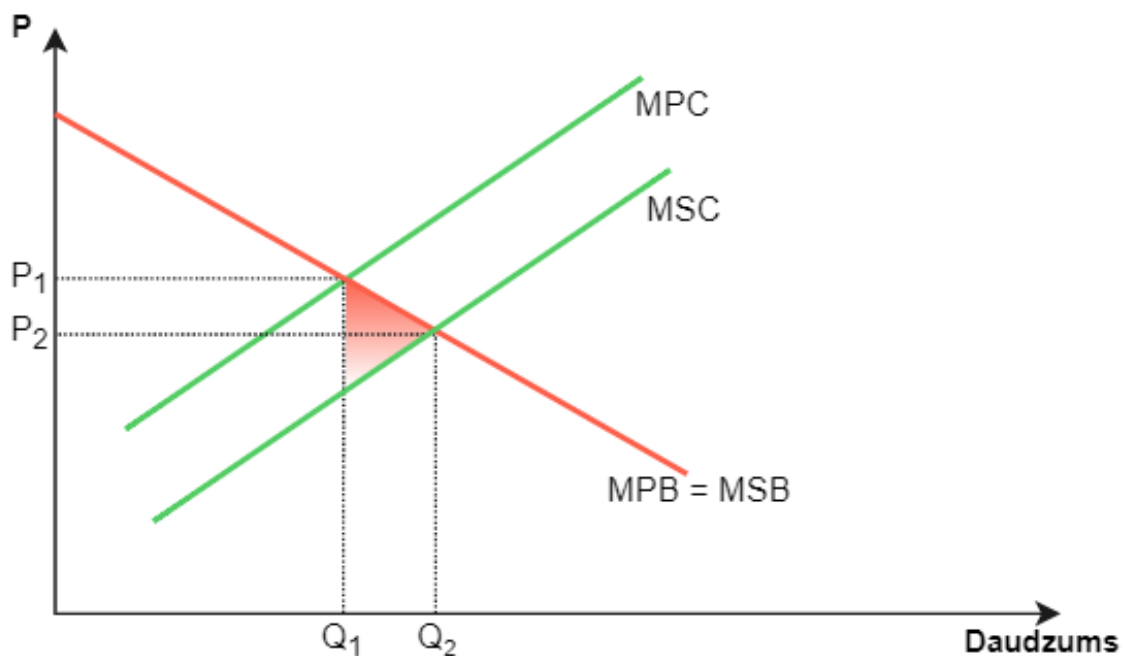


kur, Q – biļešu daudzums (tūkstošos)

$$Q_2 = 3.0 \quad P_2 = 20 \text{ eiro}$$

$$Q_1 = 3.7 \quad P_1 = 17 \text{ eiro}$$

4. attēls. Pozitīvs ārējais blakusefekts, kas rodas ražošanas procesā



kur, Q – biļešu daudzums (tūkstošos)

$$Q_1 = 2.5 \quad P_1 = 20 \text{ eiro}$$

$$Q_2 = 3.0 \quad P_2 = 16 \text{ eiro}$$